

# PROVERTO

Educational Publishers • Opvoedkundige Uitgewers

# 2022

[www.proverto.co.za](http://www.proverto.co.za)

*Guiding the leaders of tomorrow*

## HOËRSKOOLOLIMPIADE VOORBEREIDINGSTUDIEGIDS

# REKENINGKUNDE

### VORIGE VRAESTEL EN MEMO RONDE EEN EN TWEE

## GRAAD 11



## GRATIS KOPIE



UNIVERSITEIT VAN PRETORIA  
UNIVERSITY OF PRETORIA  
YUNIBESITHI YA PRETORIA

Denkleiers • Leading Minds • Dikgopolo tša Dihlalefi



F A S S E T

*Make the future count*



UNIVERSITY  
OF  
JOHANNESBURG



DURBAN UNIVERSITY OF TECHNOLOGY  
INYUVESI YASETHEKWINI YEZOBUCHWEPHESHE

Creative. Distinctive. Impactful.



NELSON MANDELA

UNIVERSITY

YOUR FUTURE WILL BE...

**BRILLIANT**  
**INNOVATIVE**  
*creative*  
**ADAPTIVE**  
**VISIONARY**  
**BRIGHT**

APPLY THROUGH THE CENTRAL APPLICATIONS  
OFFICE (CAO) TODAY VIA [WWW.CAO.AC.ZA](http://WWW.CAO.AC.ZA)

FOR MORE INFORMATION VISIT  
[WWW.DUT.AC.ZA](http://WWW.DUT.AC.ZA)

# PROVERTO



**OLYMPIAD  
CALENDAR**

**OLIMPIADE  
KALENDER**

www.proverto.co.za

GR 10, 11, 12

NATIONAL HIGH SCHOOL OLYMPIAD  
Accounting, Business Studies, Economics

NASIONALE HOËRSKOOL OLIMPIADE  
Rekeningkunde, Besigheidstudies, Ekonomie

## 2022

January							February							March							April								
M	T	W	T	F	S		S	M	T	W	T	F	S		S	M	T	W	T	F	S		S	M	T	W	T	F	S
27	28	29	30	31	1		30	31	1	2	3	4	5		27	28	1	2	3	4	5		27	28	29	30	31	1	2
3	4	5	6	7	8		6	7	8	9	10	11	12		6	7	8	9	10	11	12		3	4	5	6	7	8	9
10	11	12	13	14	15		13	14	15	16	17	18	19		13	14	15	16	17	18	19		10	11	12	13	14	15	16
17	18	19	20	21	22		20	21	22	23	24	25	26		20	21	22	23	24	25	26		17	18	19	20	21	22	23
24	25	26	27	28	29		27	28	1	2	3	4	5		27	28	29	30	31	1	2		24	25	26	27	28	29	30
31	1	2	3	4	5																								
May							June							July							August								
M	T	W	T	F	S		S	M	T	W	T	F	S		S	M	T	W	T	F	S		S	M	T	W	T	F	S
2	3	4	5	6	7		29	30	31	1	2	3	4		26	27	28	29	30	1	2		31	1	2	3	4	5	6
9	10	11	12	13	14		5	6	7	8	9	10	11		3	4	5	6	7	8	9		7	8	9	10	11	12	13
16	17	18	19	20	21		12	13	14	15	16	17	18		10	11	12	13	14	15	16		14	15	16	17	18	19	20
23	24	25	26	27	28		19	20	21	22	23	24	25		17	18	19	20	21	22	23		21	22	23	24	25	26	27
30	31	1	2	3	4		26	27	28	29	30	1	2		24	25	26	27	28	29	30		28	29	30	31	1	2	3
September							October							November							December								
M	T	W	T	F	S		S	M	T	W	T	F	S		S	M	T	W	T	F	S		S	M	T	W	T	F	S
29	30	31	1	2	3		25	26	27	28	29	30	1		30	31	1	2	3	4	5		27	28	29	30	1	2	3
5	6	7	8	9	10		2	3	4	5	6	7	8		6	7	8	9	10	11	12		4	5	6	7	8	9	10
12	13	14	15	16	17		9	10	11	12	13	14	15		13	14	15	16	17	18	19		11	12	13	14	15	16	17
19	20	21	22	23	24		16	17	18	19	20	21	22		20	21	22	23	24	25	26		18	19	20	21	22	23	24
26	27	28	29	30	1		23	24	25	26	27	28	29		27	28	29	30	1	2	3		25	26	27	28	29	30	31
							30	31	1	2	3	4	5																

**First Round: 11 MAY**  
**Second Round: 3 AUGUST**

**Eerste Ronde: 11 MEI**  
**Tweede Ronde: 3 AUGUSTUS**

Online self assessment test available

Aanlyn self assesering toetse beskikbaar

www.proverto.co.za

[Link: https://www.proverto.co.za/olympiad/onlineAssess.html](https://www.proverto.co.za/olympiad/onlineAssess.html)

# NELSON MANDELA UNIVERSITY



**Change the World by applying for a qualification in one of the following study field:**

Accounting • Advertising • Afrikaans • Agricultural Management • Analytical Chemistry • Anthropology • Applied Design • Applied Mathematics • Architectural Technology • Architecture • Art • Auditing • Biochemistry • Biokinetics • Botany • Broadcasting • Building • Business Management • Business Studies • Ceramic Design • Chemistry • Criminal Justice • Civil Engineering • Clinical Psychology • Computer Science • Communication Networks (IT) • Conservation Biology • Construction Economics • Construction Management • Construction Studies • Counselling Psychology • Chemical Process Technology • Development Studies • Dietetics • Economics • Ecology • Education • Electrical Engineering • English • Environmental Health • Environmental Management • Emergency Medical Care (Paramedic) • Fashion • Financial Accounting • Financial Planning • Fine Art • Foundation Phase Teaching • Forestry • French • FET Teaching • Game Ranch Management • Geography • Geology • Graphic Design • History • Hospitality Management • Human Movement Science • Human Resource Management • Human Settlement Development • Industrial Psychology • Industrial Engineering • Information Systems • Information Technology • Inorganic Chemistry • Interior Design • Internal Auditing • Inventory Management • Intermediate Phase Teaching • isiXhosa • Journalism • Language & Literature • Law • Logistics • Management • Marine Biology • Marine Engineering • Marketing • Mathematics • Mechanical Engineering • Mechatronics • Media, Communication & Culture • Microbiology • Music • Music Education • Medical Laboratory Science • Medicine & Surgery • Nature Conservation • Nursing • Operations Management • Painting • Pharmacy • Philosophy • Physiology • Photography • Physics • Political Studies • Polymer Technology • Psychology • Public Administration • Public Management • Public Relations Management • Quality Management • Quantity Surveying • Radiography (Diagnostic) • Restoration Ecology • Renewable Energy • Sculpture • Senior Phase Teaching • Social Work • Sociology • Software Development • Sport Management • Sport Science • Statistics • Support Services (IT) • Taxation • Textile Design & Technology • Tourism • Transport Economics • User Support Services (IT) • Veldfire Management • Visual Arts • Wood Technology • Youth Work • Zoology

**Change the World**

**T** 041 504 1111  
**E** [info@mandela.ac.za](mailto:info@mandela.ac.za)

[myfuture.mandela.ac.za](http://myfuture.mandela.ac.za)



# REKENINGKUNDE

**GRAAD 11**

**Olimpiade Vraestel**

**Ronde Een**

**Punte: 30**

**Tyd: 1 uur**

**Datum: 12 Mei 2021**

## Instruksies

1. Vul antwoorde in op die ANTWOORDBLAD.
2. Onthou om jou persoonlike inligting volledig in te vul op die ANTWOORDBLAD.
3. Die ANTWOORDBLAD het 4 afdelings, maak seker dat jy die korrekte vak kies.
4. Elke vraag het 4 moontlike antwoorde (A B C D)  
Slegs een antwoord is korrek.  
Kleur die antwoord sirkel volledig in.
5. Sterkte!



# PROVERTO EMS OLIMPIADE 2021 – GRAAD 11

## REKENINGKUNDE

### RONDE 1

#### REKENINGKUNDE EN AARP-BEGINSELS

- Die \_\_\_\_\_-beginsel van rekeningkunde is die idee dat alle transaksies ingesluit moet word in die tydperke waartydens dit werklik plaasvind, eerder as wanneer kontantvloei daaraan verbonde plaasvind.  
**A** parings / aanwas  
**B** omsigtigheid / konserwatisme  
**C** konsekwentheid  
**D** lopende saak
- Die beginsel van \_\_\_\_\_ verwys na die idee dat alle laste en uitgawes so gou as moontlik geboekstaaf moet word, terwyl bates en inkomste slegs geboekstaaf moet word as 'n rekenmeester seker is dat dit sal plaasvind.  
**A** parings / aanwas  
**B** omsigtigheid / konserwatisme  
**C** konsekwentheid  
**D** lopende saak
- Die \_\_\_\_\_ beginsel behels dat die opgetekende bedrae vir aandelebeleggings, bates en laste nie aangepas moet word vir markwaarde, verbeteringe of inflasie nie.  
**A** ekonomiese entiteit  
**B** dubbel-inskrywing  
**C** volledige openbaarmaking  
**D** historiese koste
- Volgens die \_\_\_\_\_-beginsel word kredietverkope aangeteken wanneer verkope plaasvind en nie wanneer die klant die faktuur betaal nie.  
**A** volledige openbaarmaking  
**B** monetêre eenheid  
**C** tydspanne  
**D** paring / aanwas
- Watter een van die volgende is 'n voorbeeld van die besigheids-entiteitsbeginsel?  
**A** Vooruitbetaalde uitgawes en die voorsiening vir waardevermindering kan oorgedra word in die verwagting dat dit behoorlik ooreenstem met die inkomste van toekomstige periodes.  
**B** Marktoestande, tegnologiese veranderinge en die doeltreffendheid van bestuur word nie in die rekeninge geopenbaar nie.  
**C** Enige betalings vir die eienaar se persoonlike uitgawes deur die besigheid sal as onttrekkings beskou word en die kapitaalbydrae van die eienaar in die besigheid verminder.  
**D** Daar moet voorsiening gemaak word vir twyfelagtige skuld.

6. 'n Onderneming skryf die koste van laewaarde-bates soos potloodskerpmaak, papiermandjies en sakrekenaars af in die wins- en verliesrekening as uitgawes, hoewel dit langer as een finansiële periode gebruik kan word. Die toepaslike rekeningkundige beginsel is \_\_\_\_\_.
- A objektiwiteit
  - B konsekwentheid
  - C wesenlikheid
  - D parings / aanwas

## REKONSILIASIES

7. Wat is die naam van die dokument wat maandeliks aan klante gestuur word om transaksies vir die maand te bevestig?
- A Kwitansie
  - B Rekeningstaat
  - C Staat van ontvangste en uitgawes
  - D Debiteurelys
8. Die volgende dui stappe aan in die eksterne versoeningsproses van krediteure:

### Die rekenmeester van die onderneming wat die staat ontvang:

- (i) Vergelyk die maandelikse staat uitgereik teen die Krediteurejoernaal in die Krediteuregrootboek.
- (ii) Vergelyk die debietkolom van die staat wat ontvang is met die kredietkant van die Krediteuregrootboekrekening en die kredietkant van die staat ontvang met die debietkant van die Krediteuregrootboekrekening.
- (iii) Korregeer enige foute en/of weglatings in die boeke van die besigheid van wie die maandelikse rekeningstaat ontvang is.
- (iv) Voltooi die rekonsiliasiestaat en korregeer enige foute in die finansiële rekords (Krediteuregrootboek) van die onderneming.

### Watter hiervan is verkeerd?

- A (i) en (ii)
  - B (ii) en (iii)
  - C (iii) en (iv)
  - D (i) en (iii)
9. Creta Handelaars het op 28 Februarie 2021 'n staat van 'n verskaffer, Delta Groothandelaars, ontvang. Slegs die staat het 'n kredietnota vir R560 getoon.
- ### Watter inskrywing moet die rekenmeester van Creta Handelaars doen as sy die krediteureversoening doen?
- A Debiteer die grootboekrekening van Delta Groothandelaars met R560.
  - B Krediteer die grootboekrekening van Delta Groothandelaars met R560.
  - C Debiteer die rekonsiliasiestaat met R560.
  - D Krediteer die rekonsiliasiestaat met R560.

10. 'n Staat ontvang dui 'n ontvangste van R2 400 aan terwyl die grootboekrekening 'n elektroniese fondsoorplasing van R4 200 toon. Die bankstaat dui aan dat die korrekte bedrag inderdaad R2 400 is.

**Watter inkskrywing sou in die grootboekrekening gedoen word?**

- A Debiteer met R4 200
  - B Krediet met R4 200
  - C Debiteer met R1 800
  - D Krediet met R1 800
11. Creta Handelaars het nie aan die kredietvoorwaardes soos deur Delta Groothandelaars bepaal, voldoen nie, aangesien die betaling van R2 880 'n dag laat geskied het. As sodanig het Delta Groothandelaars nie die korting van 10% vir vroeë betalings toegestaan nie.

**Watter inkskrywing sal Creta Handelaars in hul finansiële rekords maak?**

- A R2 880 in die KOJ om die betaling te kanselleer.
  - B R3 200 in die KOJ om die betaling te kanselleer.
  - C R320 in die AJ om die korting ontvang te kanselleer.
  - D R288 in die AJ om die korting ontvang te kanselleer.
12. Foxtrot Motor Onderdele ontvang 'n staat van 'n verskaffer, Gamma Imports, wat 'n uitstaande saldo van R179 500 toon. Foxtrot Motor Onderdele se rekords toon dat die bedrag van R98 440 verskuldig is. 'n Ondersoek het die volgende getoon:

- (i) Gamma Imports moet nog 'n betalingsbewys van R45 000 vanaf Foxtrot Motor Onderdele aanteken.
- (ii) Foxtrot Motor Onderdele moet steeds 'n faktuur van R32 500 van Gamma Imports ontvang.
- (iii) Foxtrot Motor Onderdele was nie daarvan bewus dat korting van R560 geweier is nie.

**Bereken die verskil wat Foxtrot Motor Onderdele nog moet ondersoek.**

- A R3 560
  - B R4 120
  - C R12 500
  - D R3 000
13. Hotel Handelaars koop goedere by Indië Groothandelaars. Op 1 Februarie 2021 skuld Hotel Handelaars Indië Groothandelaars R29 450.

**Hotel Handelaars het die volgende transaksies verwerk:**

- Twee fakture van Indië Groothandelaars vir aankope gedurende Februarie 2021 vir R54 550 en R48 500.
- Op 28 Februarie 2021 was 'n derde faktuur vir R23 500 en 'n betaling van R80 640 deur Hotel Handelaars in transito. By die betaling het Hotel Handelaars 'n afslag van 4% in ag geneem vir vroeë betalings van die eerste twee fakture.

**Indië Groothandelaars het die volgende transaksies verwerk:**

- Al drie fakture en die bedrag verskuldig aan Indië Groothandelaars as R156 000.

**Bereken die bedrag wat Hotel Handelaars op 28 Februarie 2021 aan Indië Groothandelaars skuld.**

- A R156 000
- B R71 238
- C R29 450
- D R75 360



14. Die proefbalans balanseer wanneer die debiteurekontrole se saldo daarby ingesluit word, maar dit balanseer nie as die totaal van die debiteurelys ingesluit word nie.

**Dit is duidelik dat die fout ...**

- A in die debiteurekontrolerekening sowel as die debiteuregrootboek is.
- B nie in die debiteurekontrolerekening of in die debiteuregrootboek is nie.
- C in die individuele rekening van debiteure in die debiteuregrootboek is.
- D in die debiteurekontrolerekening in die algemene grootboek is.

## BATEVERKOPE

15. Juliëtt & Co. toon 'n saldo vir grond en geboue op **28 Februarie 2020** van R3 650 000 op die balansstaat.

Herstelwerk aan die bestaande gebou gedurende die huidige boekjaar het R130 000 beloop. Die parkeerarea is ook opgegradeer. Motorafdakke is geïnstalleer en die gruisparkeerarea is geplavei. Dit beloop R870 000.

Bereken die syfer waarteen grond en geboue in die balansstaat **vir die jaar geëindig 28 Februarie 2021** aangedui sal word.

- A R3 650 000
- B R4 390 000
- C R4 520 000
- D R4 650 000

16. **Die volgende inligting is uit die rekords van Kilo Bakery geneem:**

<b>Saldo's op 1 Maart 2020:</b>	Voertuie	R1 170 000
	Opgehoopte waardevermindering op voertuie	R431 250

**Bykomende inligting:** (i) Waardevermindering word bereken teen 25% per jaar op kosprys.  
(ii) 'n Nuwe voertuig is op 31 Oktober 2020 aangekoop teen 'n bedrag van R480 000.

**Bereken die waardevermindering op voertuie vir die huidige finansiële jaar wat eindig op 28 Februarie 2021.**

- A R224 688
- B R332 500
- C R412 500
- D R292 500

17. Lima Handelaars bereken waardevermindering op toerusting teen 20% per jaar volgens die verminderende saldometode. Een van die masjiene wat in die produksieproses gebruik word, is verkoop en vervang met nuwe tegnologie op 1 Junie 2020.

**Inligting rakende die verkoopte toerusting:**

- Die drawaarde van die masjien op 1 Maart 2020 was R47 000.
- Hierdie masjien is op krediet verkoop aan 'n plaaslike sakevrou wat haar eie onderneming begin. Die ooreengekome prys was R2 000 meer as die drawaarde van die masjien op daardie dag.

**Een van die korrekte kredietinskrywings in die bateverkope-rekening sal wees:**

- A Debiteurekontrole R42 650  
B Bank R47 000  
C Debiteurekontrole R46 650  
D Wins op verkoop van bate R2 000
18. Mikes Shop het toerusting met 'n **kosprys van R244 000 op 28 Februarie 2020**. Toerusting bestaan uit vier identiese masjiene wat almal op dieselfde dag teen dieselfde prys gekoop en geïnstalleer is. Een van hierdie masjiene is verkoop en vervang met 'n nuwe masjien wat 15% meer gekos het op **1 Maart 2020**.

**Bereken die kosprys van die toerusting op die laaste dag van die huidige finansiële jaar, 28 Februarie 2021.**

- A R374 133  
B R314 150  
C R253 150  
D R280 600
19. Die volgende is beheermaatreëls om te verseker dat nie-bedryfsbates veilig beskerm word:
- (i) Verkrygings en verkoop word behoorlik gemagtig.
  - (ii) Die aangetekende bates bestaan.
  - (iii) Die aangetekende nie-bedryfsbates word deur die vennote besit.
  - (iv) Waardevermindering word in die rekeningkundige rekords van die onderneming aangeteken.
  - (v) Waardevermindering word korrek bereken volgens wisselende statistiese metodes en nuttige lewensduur.

**Watter van hierdie maatreëls is NIE behoorlike interne beheermaatreëls NIE?**

- A (i), (ii) en (iii)  
B (iii), (iv) en (v)  
C (iii) en (v)  
D (i), (iv) en (v)

## VENNOOTSKAPPE EN FINANSIËLE STATE

20. 'n Voordeel om as vennootskap te funksioneer, is:
- A Een vennoot sal altyd 'n stille vennoot wees en as sodanig geen insette in besluitneming hê nie.  
B Meer kapitaal kan verkry word deur aandele uit te reik.  
C Toegang tot 'n groter hoeveelheid aanvangskapitaal.  
D Bepaalde aanspreeklikheid aangesien die besigheid en die vennote as afsonderlike entiteite beskou word.

21. Watter een van die volgende sal nie in die vennote se lopende rekeninge opgeneem word nie?

- A Salarisse aan vennote betaal
- B Rente op kapitaal
- C Onttrekkings
- D Klandisiewaarde (goodwill)

- 22.
- Mnr. A en mnr. B is in 'n vennootskap wat winste deel in 'n verhouding van 3:2.
  - Die netto wins vir die jaar geëindig 28 Februarie 2021 is as R120 000 bereken.
  - Rente op kapitaal is toegeken as R4 000 aan mnr. A en R3 500 aan mnr. B.
  - Mnr. B het 'n maandelikse salaris van R5 000 ontvang.

**Bereken hoeveel wins mnr. B meer as mnr. A sal ontvang in die finale verdeling.**

- A R10 500
- B R31 500
- C R21 000
- D R49 000

23. 'n Debietsaldo op 'n lopende rekening van 'n vennoot dui daarop dat:

- A die vennoot meer onttrek het as wat hy in die vennootskap verdien het.
- B onttrekkings laer is as die winsdeel vir daardie spesifieke boekjaar.
- C die vennoot 'n kredietsaldo op sy kapitaalrekening het.
- D die vennoot eintlik insolvent is.

24. Die korrekte inskrywing om die salaris van Vennoot A aan te teken, is:

	DEBIET	KREDIET
A	Kapitaalrekening: A	Salarisrekening: A
B	Salarisrekening: A	Lopende rekening: A
C	Lopende rekening: A	Verdelingsrekening
D	Verdelingsrekening	Lopende rekening: A

25. Watter van die volgende kenmerke moet bestaan om 'n onderneming as 'n vennootskap te erken?

- A Die onderneming moet deur ten minste twee natuurlike persone besit word.
- B Daar moet mede-eienaarskap, 'n onderneming en 'n voorneme om winste te deel wees.
- C Die onderneming moet by CIPRA geregistreer wees.
- D Die eienaars moet 'n skriftelike ooreenkoms hê om sake as vennote te bedryf.

26. Watter een van die volgende sal op die laaste dag van die finansiële jaar op die balansstaat van 'n vennootskap onder bedryfsbates gelys word?

- A Die waarde van die handelsvoorraad op die eerste dag van die huidige finansiële jaar.
- B Die waarde van die handelsvoorraad op die laaste dag van die huidige finansiële jaar.
- C Vooruitbetaalde uitgawes op die laaste dag van die vorige finansiële jaar.
- D Inkomste ontvangbaar op die laaste dag van die vorige finansiële jaar.

27. Om watter een of meer van die volgende redes sou u vennote aanraai om hul finansiële state professioneel te laat oudit?

- (i) Sodat alle vennote kan voel dat hul belange beskerm word.
- (ii) Dit is 'n wettige vereiste.
- (iii) Om geskille en moontlike regsgedinge te vermy.
- (iv) Dit verhoog die aansien van die onderneming.

**Kies die korrekte kombinasie:**

- A (i) en (iv)
- B (i) en (iii)
- C (iii) en (iv)
- D (ii) en (iii)

28. November Handelaars, 'n vennootskap, hou afsonderlike kapitaalrekening en lopende rekening vir elke vennoot by.

**Watter een of meer van die volgende moet in die lopende rekening gekrediteer word?**

- (i) Deel van die wins uit die vennootskap.
- (ii) Enige onttrekkings wat deur 'n vennoot gedurende die boekjaar gemaak is.
- (iii) Enige huur, salaris of rente wat aan 'n vennoot verskuldig is.
- (iv) Bykomende kapitaal wat gedurende die jaar deur 'n vennoot ingestel is.

**Kies die korrekte kombinasie:**

- A (i) en (iv)
- B (iii) en (iv)
- C (ii) en (iii)
- D (i) en (iii)

29. Kara, Lara en Mara is in vennootskap met 'n ooreenkoms wat voorsiening maak vir 'n salaris van R2 000 per maand aan Kara, die rente van hul vaste kapitaalsaldo teen 6% per jaar en die verdeling van wins in die verhouding 3:2:1. Die kapitaalrekeningsaldo's van Kara, Lara en Mara was onderskeidelik R500 000, R300 000 en R200 000. Die wins vir die jaar geëindig 31 Maart 2021 was R728 400.

**Bereken die vennootskapwins waarop elke vennoot geregtig is.**

	<b>KARA</b>	<b>LARA</b>	<b>MARA</b>
<b>A</b>	R346 200	R214 800	R107 400
<b>B</b>	R322 200	R214 800	R107 400
<b>C</b>	R376 200	R232 800	R119 400
<b>D</b>	R352 200	R250 800	R131 400





- 30.** Dolly, Molly en Polly is in vennootskap op grond van 'n ooreenkoms wat voorsiening maak vir gelyke verdeling van winste nadat Dolly se salaris teen R3 000 per maand toegelaat is. Dolly het aan die einde van elke maand gereeld haar salaris getrek. Die vennootskap se wins vir die jaar geëindig 30 Junie 2021 was R312 000.

Bereken die bedrae waarmee die onderskeie lopende rekeninge sal verander indien Dolly op 1 Desember 2020 'n bykomende R10 000 sou trek, terwyl Molly op 1 Januarie 2021 R20 000 sou onttrek en Polly op 1 April 2021, R15 000.

	<b>DOLLY</b>	<b>MOLLY</b>	<b>POLLY</b>
<b>A</b>	+ R92 000	+R92 000	+R92 000
<b>B</b>	+ R82 000	+R72 000	+R77 000
<b>C</b>	- R92 000	- R92 000	- R92 000
<b>D</b>	- R82 000	- R72 000	- R77 000

#ChooseUP

# Maak jou toekomsdrome waar **#ChooseUP**

-  Ons grade word **internasionaal** erken.
-  Ons **alumni** is baie gesog.
-  Ons het **ondersteuningsprogramme** om ons studente te help om suksesvol te wees.
-  Ons help om jou **voor te berei** op die **wêreld van werk**.

Jou toekoms maak saak.

Doen so gou moontlik vanaf **1 April 2022**  
**aansoek** by [www.up.ac.za/apply](http://www.up.ac.za/apply).

**Keuringsprogramme** sluit op **30 Junie 2022**.

Alle ander programme (**nie-keuringsprogramme**)  
sluit sodra 'n program vol is.



UNIVERSITEIT VAN PRETORIA  
UNIVERSITY OF PRETORIA  
YUNIBESITHI YA PRETORIA

Make today matter

[www.up.ac.za](http://www.up.ac.za)

# REKENINGKUNDE

**GRAAD 11**

**Olimpiade Vraestel**

**Ronde Twee**

**Punte: 30**

**Tyd: 1 uur**

**Datum: 04 Aug 2021**

## Instruksies

1. Vul antwoorde in op die ANTWOORDBLAD.
2. Onthou om jou persoonlike inligting volledig in te vul op die ANTWOORDBLAD.
3. Die ANTWOORDBLAD het 4 afdelings, maak seker dat jy die korrekte vak kies.
4. Elke vraag het 4 moontlike antwoorde (A B C D)  
Slegs een antwoord is korrek.  
Kleur die antwoord sirkel volledig in.
5. Sterkte!



# RULES OF ORDERING IN MATHEMATICS - BODMAS



<b>B</b>	<b>O</b>	<b>D</b>	<b>M</b>	<b>A</b>	<b>S</b>
Brackets (...)	Orders $\sqrt{x}$ $x^2$	Division $\div$	Multiplication $\times$	Addition $+$	Subtraction $-$

A leader on our continent. **UJ. Fourth in South Africa.**

**Fifth in Africa:** Quacquarelli Symonds (QS) World University Rankings.

For more information, visit [future.uj.mobi](http://future.uj.mobi)

**The Future  
Reimagined**



# PROVERTO EMS OLIMPIADE 2021 – GRAAD 11

## REKENINGKUNDE

### RONDE 2

### VERSOENINGS

1. Hoe kan 'n besigheid verseker dat 'n krediteur se rekening korrek aangeteken is en sodoende dat die korrekte bedrag betyds betaal word?
- Krediteurelys word maandeliks met die Krediteurekontrole rekening vergelyk om enige foute of weglatings op te spoor.
  - Krediteuregrootboek rekening word maandeliks met die Krediteure se staat vergelyk om enige foute of weglatings op te spoor.
  - Bestuurder kan lukrake steekproef uitoefen om krediteureklerke se werk na te gaan as deel van die kontroleproses.
  - Verdeling van pligte in krediteure departement sal verseker dat een werker nie verantwoordelik is vir bestellings, ontvangstes, betalings en versoenings van krediteure rekeninge nie.

**Kies die beste interne kontrole opsies:**

- ii en iv
  - i en ii
  - i, ii en iv
  - Al die bogenoemde
2. 'n Terugsendings inskrywing ten opsigte van R670 vanaf 'n debiteur is korrek in die Debiteure-afslagjoernaal aangeteken, maar foutiewelik na die verkeerde kant van die debiteur, M. Colin, se rekening oorgeboek.
- Watter aksie is nodig in die debiteure se versoeningsproses?**
- Debiteer R670 in die Debiteuregrootboek van die besigheid.
  - Krediteer R670 in die Debiteuregrootboek en die Debiteurekontrolerekening van die besigheid.
  - Debiteer R1 340 in die Debiteurekontrolerekening van die besigheid.
  - Krediteer R1 340 in die Debiteuregrootboek van die besigheid.
3. 'n Kredietsaldo van R320 op Spieth Winkels se rekening in die Debiteuregrootboek moet oorgedra word na sy rekening in die Krediteuregrootboek.

**Watter aksie is nodig in die versoeningsproses?**

	DEBITEUREVERSOENING		KREDITEUREVERSOENING	
	DEBITEUREKONTROLE	DEBITEURELYS	KREDITEUREKONTROLE	KREDITEURELYS
<b>A</b>	320		(320)	
<b>B</b>	320	320	320	320
<b>C</b>		320		(320)
<b>D</b>	(320)	(320)	320	320

4. Wanneer versoening gedoen word tussen die krediteure se grootboekrekening van 'n onderneming en die staat wat van die krediteur ontvang is, is afslag van R3 150 in die grootboek ontdek, maar nie op die staat nie. Na bespreking met die krediteur het hulle ingestem om slegs R2 150 se afslag toe te staan.

**Watter aksie word vereis in die krediteure se versoeningsproses?**

		KREDITEUREGROOTBOEK		KREDITEUREVERSOENINGSTAAT	
		DEBIET	KREDIET	DEBIET	KREDIET
A			1 000		2 150
B			1 000	2 150	
C	3 150				3 150
D			2 150		2 150

5. As gevolg van die vertraging in die pos is die rekening van Marrow Traders laat ontvang. Die rekenmeester het die betaling van R57 000 gemaak nadat hy die gebruikelike 5% korting wat vir vroeë betaling toegestaan word, in berekening gebring het.

Marrow Traders het egter laat weet dat die betaling sowel as die korting nie ontvang is of toegestaan word nie. In stede word daar 2,5% rente per maand vir 2 maande op die agterstallige bedrag gehef; hierdie was reeds op die krediteurstaat in berekening gebring. By nadere ondersoek het die besigheid gevind dat die betaling na die verkeerde krediteure se bankrekening oorgeplaas is.

**Watter aksie word vereis in die krediteure se versoeningsproses?**

		KREDITEUREGROOTBOEK		KREDITEUREVERSOENINGSTAAT	
		DEBIET	KREDIET	DEBIET	KREDIET
A			60 150		
B			57 000	57 000	
C			59 850	2 850	
D			63 000		

6. Die proefbalans balanseer wanneer die debiteurekontrole se saldo daarby ingesluit word, maar dit balanseer nie as die totaal van die debiteurelys ingesluit word nie.

**Dit is duidelik dat die fout ...**

- A in die debiteurekontrolerekening sowel as die debiteuregrootboek is.
- B nie in die debiteurekontrolerekening of in die debiteuregrootboek is nie.
- C in die individuele rekening van debiteure in die debiteuregrootboek is.
- D in die debiteurekontrolerekening in die algemene grootboek is.

## VASTE BATES

7. Fire BPK het ongebruikte grond verkoop vir kontant teen kosprys om kontantvloei probleme op te los. Hierdie eiendom is deur Skyline Properties (EDMS) BPK gekoop. Die meerderheidsaandeelhouer van Skyline Properties (EDMS) BPK is Cathy Carreira, die vrou van Fire BPK se hoofuitvoerende beampte (HUB).

**As 'n interne ouditeur sou jy bekommerd wees oor die verkoop van die grond. Aan watter onetiese gedrag kan die uitvoerende hoof skuldig wees?**

- A Nepotisme
- B Fluitjieblaser
- C Vervalsing
- D Binnehandel

8. **Uittreksel uit die lys van saldo's op 28 Februarie:**

	2021	2020
Eiendom, aanleg en toerusting	5 180 000	3 450 000

- Waardevermindering vir die jaar geëindig 28 Februarie 2021, R345 100.
- 'n Nuwe voertuig aangekoop gedurende die jaar vir R305 000.
- Masjienerie is verkoop teen drawaarde op 28 Februarie 2021 vir R120 800.

**Die besigheid het ook gedurende die jaar 'n nuwe stuk grond gekoop wat hulle wil ontwikkel. Wat was die aankoopsprys van die grond?**

- A R1 425 000
- B R1 569 100
- C R1 730 000
- D R1 890 900

9. **Uittreksel uit die lys van saldo's op 31 Mei:**

	2021	2020
Toerusting	875 000	650 000
Opgelope waardevermindering op toerusting	449 250	351 000

Op 31 Mei 2020 het die besigheid reeds die toerusting vir 4,5 jaar gebruik. Nuwe toerusting is aangekoop gedurende die jaar; geen toerusting is verkoop nie. Waardevermindering word op die kosprys metode bereken.

**Op watter datum is die nuwe toerusting aangekoop?**

- A 1 Junie 2020
- B 1 September 2020
- C 1 Desember 2020
- D 1 Mei 2021

**10. Wat is die doel van 'n bateregister?**

- A Die grootboekrekeninge van bates toon elke individuele bate, daarom moet alle bates as 'n totale bedrag in die register getoon word.
- B Dit help die besigheid om te sien op watter dae van die maand die bates gebruik is en vir hoe lank.
- C Om net die historiese kosprys van alle bates wat gekoop is, te wys.
- D Dit is deel van die interne kontrole proses van die besigheid om rekord van elke individuele bate te hou.

**11. Uittreksel uit die lys van saldo's op 30 September:**

	2021	2020
Grond en geboue	R3 250 000	R1 850 000
Voertuie	R555 000	R260 000
Opgelope waardevermindering op voertuie	?	R97 500

**Voertuie:**

- Op 1 Oktober 2020 het die besigheid twee identiese voertuie gehad wat oorspronklike op dieselfde dag aangekoop is.
- Op 1 Junie 2021 het die besigheid een van hul voertuie ingeruil teen drawaarde. Op dieselfde dag het die besigheid 'n nuwe voertuig aangekoop.
- Die besigheid skryf waardevermindering op voertuie af teen 15% op kosprys.

**Dui aan hoe die bogenoemde VASTE BATE inligting elkeen van die state sal beïnvloed.**

	INKOMSTESTAAT VIR DIE JAAR GEËINDIG 30 SEPTEMBER 2021	BALANSSTAAT OP 30 SEPTEMBER 2021
A	R47 250	R3 722 000
B	R50 063	R3 720 812
C	R53 750	R3 715 500
D	R83 250	R3 624 250

**12. Bestudeer die Bateverkope rekening.**

BATEVERKOPE					
2021 Apr, 30	Voertuie	355 000	2021 Apr, 30	Opgelope waardevermindering op voertuie	?
				Bank	?
				Verlies weens diefstal	42 000

- Een van die besigheid se voertuie is oornag uit die perseel gesteel. Die versekering het laat weet dat hulle 75% van die drawaarde van die voertuig sal uitbetaal.

**Bereken die opgelope waardevermindering op voertuie op die dag van die diefstal.**

- A R145 000
- B R187 000
- C R257 000
- D R313 000

**13. As 'n interne ouditeur, watter maatreëls kan ingestel word om die vaste bates veilig te hou?**

- i. Hou 'n gedetailleerde individuele vaste bateregister van elke bate.
- ii. Doen dikwels lukrake steekproewe op die vaste bates om die nut daarvan te bepaal.
- iii. Installeer sagteware in voertuie wat roetes en gebruik kan monitor.
- iv. Werknemers wat die vaste bate gebruik, moet inteken deur van 'n logboek gebruik te maak.
- v. Installeer kamera's in die voertuie wat bestuurders kan monitor.
- vi. Hou die vaste bates snags agter slot en grendel.
- vii. Moet nooit toelaat dat 'n werknemer 'n vaste bate huis toe neem vir persoonlike gebruik nie.

**Kies die beste opsie:**

- A ii, iii, iv en v
- B i, ii en iv
- C i, iii, iv, vi en v
- D Al die bogenoemde

## VENNOOTSAPPE

**14. Bestudeer die uittreksel uit die Balansstaat:**

	NOTA	
<b>BEDRYFSBATES</b>		1 150 200
Voorraad	4	520 000
Handels- en ander ontvangbares	5	389 200
Kontant en kontantekwivalente	6	241 000

**Hoekom moet die bedryfsbates in hierdie spesifieke volgorde op die Balansstaat geplaas word?**

- A Weens die alfabetiese volgorde.
  - B Weens die numeriese volgorde.
  - C Weens die likiditeits volgorde.
  - D Weens die volgorde van belangrikheid.
- 15.** 'n Daling in persentasie tussen brutowins op omset en bedryfswins op omset word hoofsaaklik veroorsaak deur...
- A bedryfuitgawes.
  - B finansieringskoste (rente uitgawe).
  - C bedryfsinkomstes.
  - D terugsendings deur debiteure.
- 16.** Solvensie is gelyk aan ...
- A bedryfskapitaal.
  - B totale bates.
  - C eienaarsbelang.
  - D totale laste.

17. Vaste deposito's wat verval en korttermyn gedeeltes van lenings is verskuif op die Balansstaat om beter akkuraatheid in ontleding van ... te bewerkstellig.

- A solvensie
- B likiditeit
- C risiko
- D rentabiliteit

18. **LENING EN RENTE**

Die volgende leningstaat is ontvang vanaf Nedbank:

Saldo op 1 Maart 2020	?
Terugbetalings (rente ingesluit)	?
Rente gekapitaliseerd	?
Saldo op 28 Februarie 2021	725 000

Na alle terugbetalings gedurende die huidige jaar is die saldo in die Lenings rekening, R680 000.

Gedurende die volgende finansiële jaar sal 'n terugbetaling van R48 000 op die kapitaalgedeelte van die lening gemaak word.

Dui aan hoe die bogenoemde LENINGS EN RENTE inligting elke staat sal beïnvloed.

	INKOMSTESTAAT VIR DIE JAAR GEËINDIG 28 FEB 2021	BALANSSTAAT OP 28 FEB 2021	
		NIEBEDRYFSLASTE	BEDRYFSLASTE
<b>A</b>	(R45 000)	R725 000	R48 000
<b>B</b>	(R68 000)	R680 000	R48 000
<b>C</b>	(R45 000)	R677 000	R48 000
<b>D</b>	(R48 000)	R632 000	R48 000

19. 'n Besigheid het 'n totaal van R48 300 uitstaande debiteure aan die einde van die finansiële jaar, 30 April 2021.

Die volgende inskrywings moet nog in ag geneem word voordat die finansiële state op 30 April 2021 voorberei word.

- Rente word gehef op agterstallige debiteure, R1 250.
- Debiteure met kredietsaldo's van R3 470 moet oorgeplaas word na die Krediteuregrootboek.
- 'n Debiteur is insolvent verklaar. Sy boedel het 75 sent in die rand uitbetaal. Die bedrag van R1 200 is ontvang en korrek aangeteken. Skryf die res van die rekening af.
- Voorsiening vir oninbare skulde (1 Mei 2020) beloop R2 280.
- Maak 5% voorsiening vir oninbare skulde.

Bereken die voorsiening vir oninbare skulde aansuiwering wat benodig word op 30 April 2021.

- A R4 uitgawe
- B R135 uitgawe
- C R291 uitgawe
- D R351 uitgawe

20. UITTREKSEL UIT DIE VOORAANSUIWERINGSPROEFBALANS OP 31 MAART 2021

Handelsvoorraad	549 000
-----------------	---------

Die volgende transaksies is nog nie in berekening gebring nie:

- Die eienaar het handelsware geneem (verkoopprys, R3 500; kosprys, R2 000) vir sy eie gebruik.
- Op 20 Maart 2021 was daar 'n inbraak by die stoorkamer en baie voorraad word vermis. Die versekering stel die besigheid in kennis dat slegs 75% van die eis sal uitbetaal teen R65 250.
- 'n Fisiese voorraadopname gedoen op 31 Maart 2021 beloop R468 000.

Kies die korrekte handelsvoorraad tekort/surplus aansuiwering wat benodig word op 31 Maart 2021.

	REKENING GEDEBITEER	REKENING GEKREDITEER	BATES	EIENAARS-BELANG	LASTE
A	Handelsvoorraad tekort	Handelsvoorraad	- 13 750	- 13 750	0
B	Handelsvoorraad tekort	Handelsvoorraad	- 12 250	- 12 250	0
C	Handelsvoorraad	Handelsvoorraad surplus	+ 8 000	+ 8 000	0
D	Handelsvoorraad	Handelsvoorraad surplus	+ 9 500	+ 9 500	0

21. Bestudeer die onderstaande Versekeringsrekening verskaf.

VERSEKERING

2020 Mrt	1	Vooruitbetaalde uitgawe	2 080			
2020 Jul	1	Bank	3 276			
2021 Jan	1	Bank	3 480			

Versekeringspremies word ses-maandeliks hersien, verhoog en vooruit betaal.

Kies die korrekte versekeringsaansuiwering wat vir die jaar geëindig 28 Februarie 2021 benodig word.

	REKENING GEDEBITEER	REKENING GEKREDITEER	BATES	EIENAARS-BELANG	LASTE
A	Bank	Versekering	- 3 480	- 3 480	
B	Vooruitbetaalde uitgawe	Versekering	+ 2 320	+ 2 320	
C	Opgelope uitgawe	Versekering		- 2 320	+ 2 320
D	Vooruitbetaalde uitgawe	Versekering	+ 1 160	+ 1 160	

22. UITTREKSEL UIT DIE VOORAANSUIWERINGSPROEFBALANS OP 30 APRIL 2021

Huurinkomste	175 000
--------------	---------

'n Gedeelte van die gebou word sedert 1 Mei 2012 verhuur. Die huur is met 10% verlaag vanaf 1 Januarie 2021. Volgens die huurooreenkomms moet die huur een maand vooruitbetaal word.

**Bereken die korrekte aansuiweringsbedrag wat verwyder moet word uit huurinkomste vir die jaar geëindig 30 April 2021.**

- A R12 500
- B R12 600
- C R14 000
- D R14 260

23. Bestudeer die inligting uit die uittreksel verskaf:

INKOMSTESTAAT			BALANSSTAAT		
	2021	2020		2021	2020
Verkope	1 925 300	1 860 200	Kapitaal	?	2 450 000
Brutowins	673 850	558 060	Privaatrekening	?	367 500
Bedryfswins	423 560	446 448	Nie-bedryfslaste	748 200	815 000
Nettowins	367 970	288 330	Bedryfslaste	39 710	42 300

Die skuld/ekwiteitsverhouding op 31 Maart 2021 is 0,24:1

**Bereken die persentasie opbrengs op gemiddelde vennotebelang vir die jaar geëindig 31 Maart 2021.**

- A 10,5%
- B 11,1%
- C 11,8%
- D 12,4%

24. Wat is die regte formule vir die persentasie opbrengs op vennoot Calitz se belang?

- A  $\frac{\text{Calitz: Primêre winsdeling} + \text{Finale winsdeling}}{\frac{1}{2} (\text{Kapitaal: Calitz (begin van jaar)} + \text{Kapitaal: Calitz (einde van jaar)})} \times \frac{100}{1}$
- B  $\frac{\text{Nettowins}}{\text{Vennootekwiteit}} \times \frac{100}{1}$
- C  $\frac{\text{Calitz: Vennootsalaris} + \text{Rente op kapitaal} + \text{Vennootbonus} + \text{Finale winsdeling}}{\frac{1}{2} (\text{Ekwiteit: Calitz (begin van jaar)} + \text{Ekwiteit: Calitz (einde van jaar)})} \times \frac{100}{1}$
- D  $\frac{\frac{1}{2} (\text{Calitz: Primêre winsdeling} + \text{Finale winsdeling})}{\text{Ekwiteit: Calitz}} \times \frac{100}{1}$



**25. Bestudeer die finansiële aanwysers verskaf vanaf Hornbill Handelaars vir die jaar geëindig 31 Mei:**

	<b>2021</b>	<b>2020</b>
Bedryfskapitaalverhouding	2,1:1	3,7:1
Vuurproefverhouding	1,5:1	1,2:1
Voorraadhoudingstydperk	89 dae	122 dae
Gemiddelde debiteure invorderingstydperk	40 dae	42 dae
Opbrengs op vennotebelang	22%	18%
Nettowins op verkope	16,5%	15%

**Het die besigheid beter likiditeits besluite geneem gedurende 2021?**

- i. Hornbill Handelaars het beter beheer oor hul debiteure in 2021 gehad, wat meer effektiewe bestuur van bedryfskapitaal aandui.
- ii. Voorraadhoudingstydperk het verswak in 2021 en loop nou die risiko dat voorraad sal opdroog.
- iii. Bedryfskapitaalverhouding is beter in 2021; 2020 se verhouding was te hoog, wat aandui dat fondse in voorraad vasgevang is.
- iv. Opbrengs op vennotebelang het verbeter in 2021, wat dui op effektiewe kontant bestuur.
- v. Hornbill Handelaars het verbeter in 2021 se netto wins op verkopepersentasie, wat meer effektiewe bedryfsdoeltreffendheid aandui.

**Kies die beste kombinasie.**

- A** ii  
**B** i en iii  
**C** iii, iv en v  
**D** Al die bogenoemde

## KONTANTBEGROTINGS

**26.** Die doel van 'n geprojekteerde inkomstestaat is om ...

- A** 'n vooruitskatting te gee van toekomstige ontvangstes en uitgawes om sodoende die toekomstige winste te bepaal.  
**B** 'n vooruitskatting te gee van toekomstige ontvangstes en betalings om sodoende die toekomstige kontant te bepaal.  
**C** 'n vooruitskatting te gee van toekomstige inkomstes en uitgawes om sodoende die toekomstige winste te bepaal.  
**D** 'n vooruitskatting te gee van toekomstige inkomstes en uitgawes om sodoende die toekomstige kontant te bepaal.

**27.** Die doel van 'n kontantbegroting is om ...

- A** 'n vooruitskatting te gee van toekomstige ontvangstes en uitgawes om sodoende die toekomstige winste te bepaal.  
**B** 'n vooruitskatting te gee van toekomstige ontvangstes en betalings om sodoende die toekomstige kontant te bepaal.  
**C** 'n vooruitskatting te gee van toekomstige inkomstes en uitgawes om sodoende die toekomstige winste te bepaal.  
**D** 'n vooruitskatting te gee van toekomstige inkomstes en uitgawes om sodoende die toekomstige kontant te bepaal.

28. Bestudeer die volgende uittreksel uit 'n Kontant begroting van Maart 2022 tot Mei 2022:

	MAART	APRIL	MEI
Vaste deposito: Standardbank (8% p.j.)		?	
Rente op vaste deposito	2 130	2 130	1 860

Die beplande uitkeerderdatum van 'n gedeelte van die Vaste deposito is 30 April 2022.

Hoeveel word begroot sal uitbetaal aan die besigheid van die vaste deposito op 30 April 2022?

- A R3 375  
B R24 625  
C R40 500  
D R55 000
29. Watter rekening hoort nie op 'n kontantbegroting nie?

- A Kontantverkope  
B Betaling aan krediteure  
C Korting ontvang  
D Verkoopsprys van kontant verkoopte bate

30. Bestudeer die debiteure-invorderingskedule tot die kontantbegroting.

- Vaste persentasies word gebruik vir die vooruitskatting.
- Korting van 5% word toegestaan vir ontvangstes in huidige maand se verkope.
- 2% van uitstaande skuld word na 60 dae afgeskryf.

MAANDE	KREDIETVERKOPE	MAART	APRIL	MEI
Januarie	380 000	45 600		
Februarie	415 000	269 750	49 800	
Maart	600 000	119 700	390 000	?
April	?		95 760	?
Mei	436 000			?
<b>TOTAAL</b>		<b>435 050</b>	<b>535 560</b>	<b>?</b>

Bereken die verwagte debiteure-invordering vir Mei.

- A R455 382  
B R470 982  
C R475 560  
D R489 282

**ROUND 1 RONDE**

**GR 11 MEMO**

**MEMORANDUM  
2021**



**ACCOUNTING / REKENINGKUNDE**

	A	B	C	D	
1.					
2.					
3.					
4.					
5.					
6.					
7.					
8.					
9.					
10.					
11.					
12.					
13.					
14.					
15.					

	A	B	C	D		
16.						
17.						
18.						
19.						
20.						
21.						
22.						
23.						
24.						
25.						
26.						
27.						
28.						
29.						
30.						

**ROUND 2 RONDE**

	A	B	C	D	
1.					
2.					
3.					
4.					
5.					
6.					
7.					
8.					
9.					
10.					
11.					
12.					
13.					
14.					
15.					

	A	B	C	D		
16.						
17.						
18.						
19.						
20.						
21.						
22.						
23.						
24.						
25.						
26.						
27.						
28.						
29.						
30.						

# DON'T JUST STRIVE FOR EXCELLENCE, BECOME IT.

Be a #YoungDifferenceMaker



**AT NEDBANK WE BELIEVE IN USING OUR FINANCIAL EXPERTISE TO DO GOOD BY ASSISTING BRIGHT YOUNG LEADERS TO PURSUE THEIR ACADEMIC DREAMS.**

The Nedbank External Bursary Programme aims to fund academically deserving students who do not have the financial means to study fulltime towards a first undergraduate degree or diploma at a South African public university or university of technology.

Bursaries are awarded to address scarce and future skill requirements in the financial sector with specific focus on **Green Economy** skills.

## CRITERIA FOR SELECTION:

To be eligible for the Nedbank bursary, you must:

- be a South African citizen;
- have a proven financial need, as determined by your household income;
- have achieved:
  - a minimum academic average of 65% in the year that you are applying for the bursary; and
  - a minimum academic average of 65% for the required subjects aligned with the qualification you plan to study towards at university; and
- not have completed your grade 12 or senior certificate with mathematics literacy; and
- have successfully obtained admission approval to a South African public university or university of technology for the undergraduate qualification you plan to study towards.

## THE APPLICATION PROCESS:

We screen bursary applications against our external bursary selection criteria and we award bursaries through the Nedbank Educational Trust, at the sole discretion of the trust.

## IF YOU ARE SHORTLISTED, WE WILL ASK YOU TO:

- submit the relevant documents for financial review;
- participate in psychometric and other assessments; and
- attend an interview.

For the complete application process and a list of required documents, please visit our website at

[www.nedbank.co.za/bursary](http://www.nedbank.co.za/bursary).

There you can also find more information on opening dates and apply online.

All candidates will receive **feedback on the status** of their application at the completion of the recruitment and selection process (expected to be completed by the end of 2022).

### Contact information

Email: [Unlockyourambition@nedbank.co.za](mailto:Unlockyourambition@nedbank.co.za)

Bursaries are granted at Nedbank's sole discretion.

see money differently

**NEDBANK**